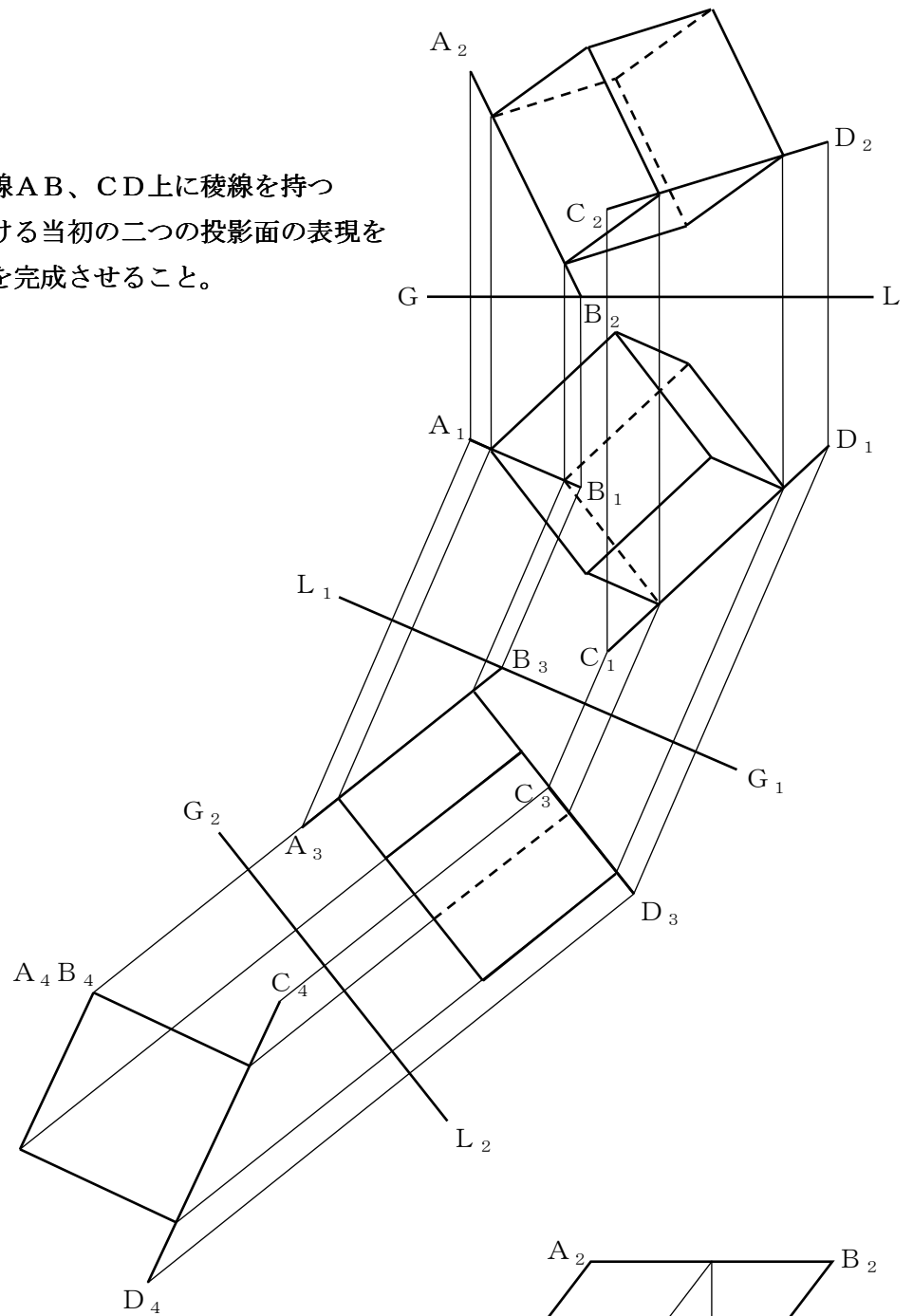
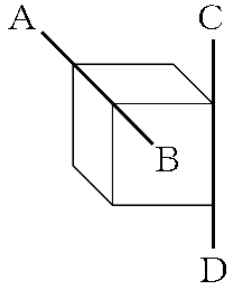


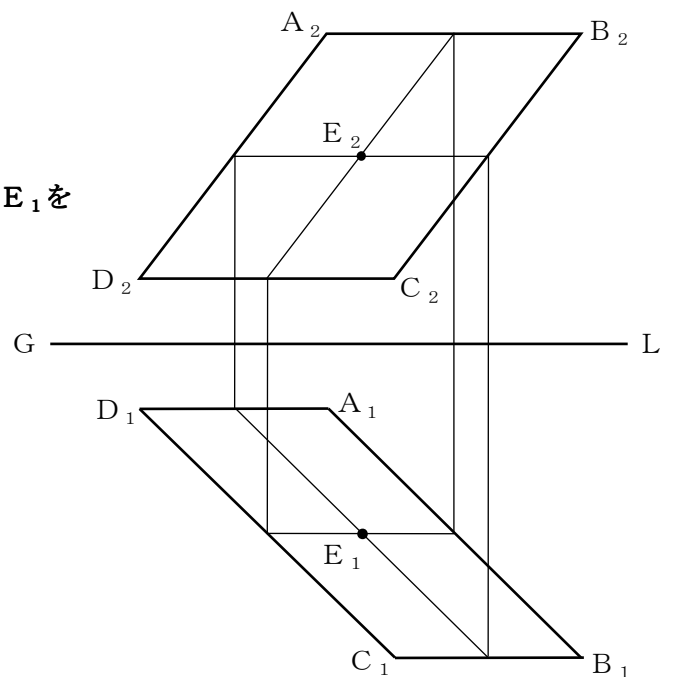
図形科学 I 平成 21 年度冬学期 期末試験問題 (復元) 奈尾信英 (90 分)

見えない線は点線で書くこと。
 作図が問題文にかぶってもよい。

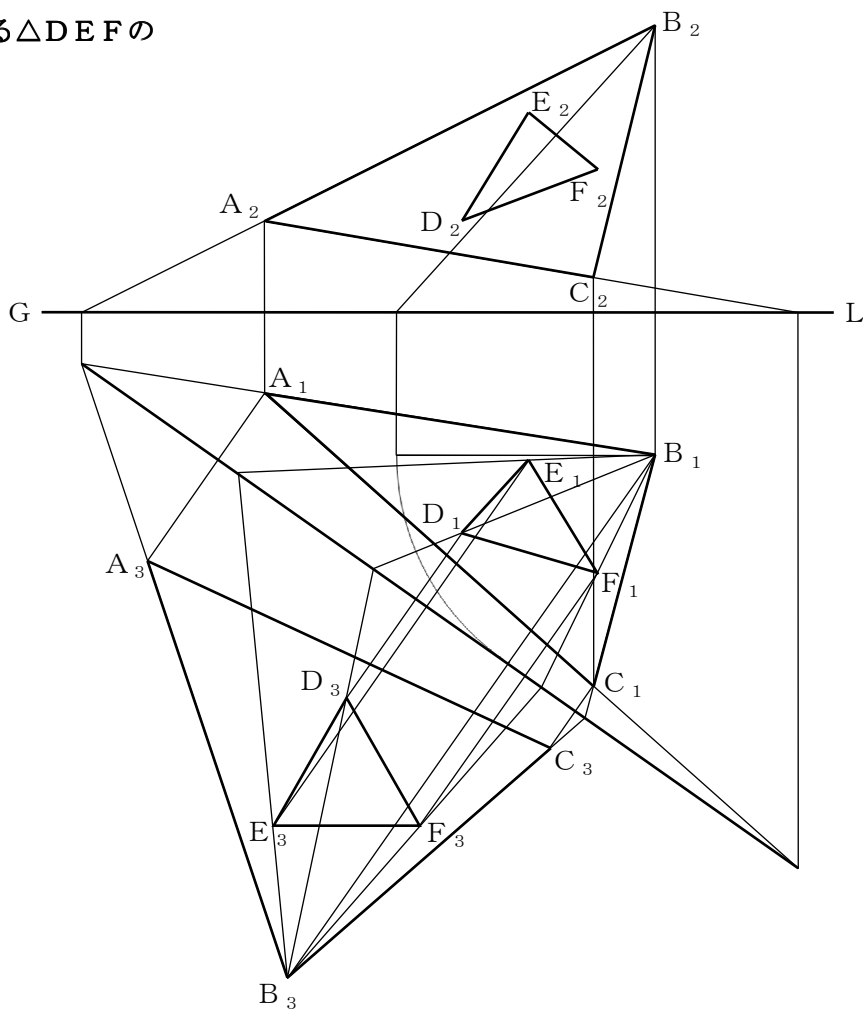
問 1) 参考図に示すように二直線 AB、CD 上に稜線を持つ立方体がある。この立方体における当初の二つの投影面の表現を求めよ。なお、すべての投影図を完成させること。



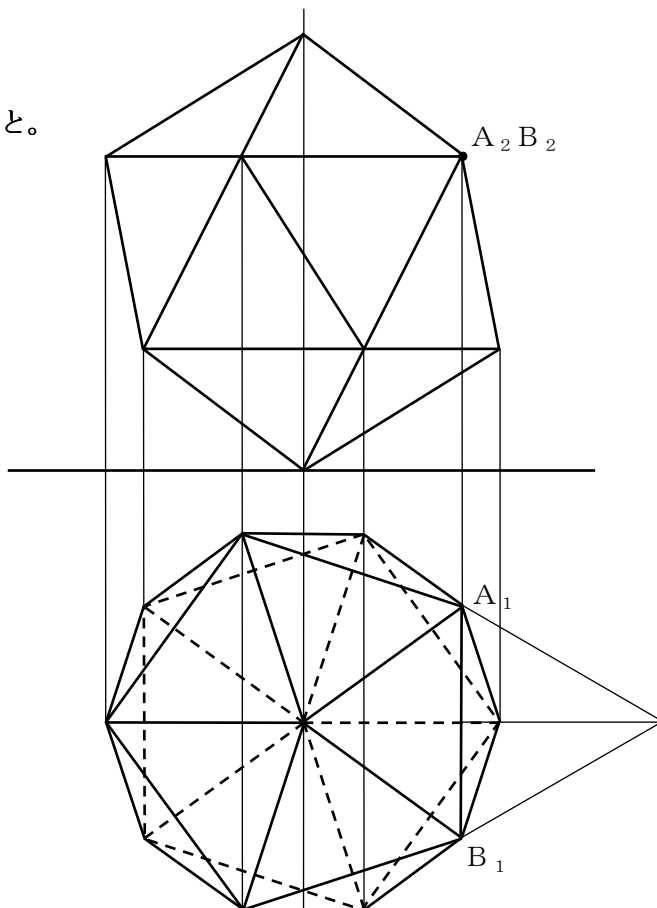
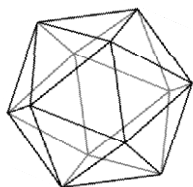
問 2) □ABCD の平面上に点 E がある。平面図上の点 E₁ をもとにして立面図上に E₂ の位置を定めよ。



問3) $\triangle ABC$ 平面上に $\triangle DEF$ が描かれている。
 $\triangle ABC$ とその平面上に描かれている $\triangle DEF$ の
 実形表現を求めよ。



問4) 参考図に示すように正二十面体がある。
 平面図をもとに立面図を完成させよ。
 ただし、稜ABの点視図 A_2B_2 から作図を始めること。



解説

なんか文章で書くと、余計にややこしくなった気がする…。

問1) 一問目から、めんどくさい問題です。そもそも稜線って何? という人もいたのではないのでしょうか。つまりは、AB、CD上に辺をもつ立方体を描けてことです。

参考図をみると、ABとCDはねじれの位置にあることがわかります。そしてABとCDの最短距離の長さが立方体の一辺の長さになるということもわかりますか? それさえわかれば、あとは簡単。

まずは最短距離線を求めます。紙面の都合上、 A_1B_1 に平行な基線を取るしかなさそうです。すると副立面図にABの実長 A_3B_3 が出てきて、これに垂直に基線 G_2L_2 をとり、点視します。CDはお付き合いでついてきてもらいます。副平面図では、ABは点視されているので、この点から、 C_4D_4 に垂線を下ろせば、これがAB、CDの最短距離線(しかも実長)です。ちなみに C_3D_3 は基線 G_2L_2 に平行だったので、(これは偶然ではありません。ABとCDは「直交」はしていませんが、「垂直」なので、実長 A_3B_3 に対して C_3D_3 は垂直です。) C_4D_4 も実長です。あとは副平面図に立方体を正面(?) から見た図、つまり正方形を描いて、元の図に戻していきます。

ここでポイント。立方体は「平行六面体」でもあるので、12の辺は、3組の「平行で長さの等しい4辺」で構成されています。これは立体を傾けても変わりません。このことをうまく使えば、すべての線をうつしていなくても、最低限3本の線だけをうつしていけば図が完成します。

あと、注意としては、GとLの位置を逆にしないこと。平面図を下にして、左からG-Lと書きます。

問2) 一番と比べてやけに簡単な問題です。単純すぎて逆に迷ってしまった人も多いかも。そもそも四角形のど真ん中に点を書いてあるし…。

筆者は点 E_1 を通り各辺に平行な線を2本引いてそれを立面図にうつして交点を求めました。ま、とりあえず点 E_1 を通る直線を2本引いて、それを立面図にうつせばいいかと。うつす点の位置さえ間違えなければ問題ないはず。(A_1B_1 上の点は必ず A_2B_2 上にうつります。)

問3) ラバットメントの問題。水平跡線とやらを求めて、ぱたっと倒してやれば実形が出てきます。正三角形っぽい形が出てくれば大丈夫。この手の問題は(採点の都合上?) きれいな形が出てきたら正解の可能性が高いかと。

問4) 正十二面体とかは時間かかるから出題しないって言ったのに。ぼっちり出題されました。けどそんなに焦る必要はなかったかと。 A_1B_1 が立面図では点視されているのがポイント。つまり A_1B_1 は実長です。正二十面体は正三角形20枚で構成されているので、その一辺の長さが分かれば、正三角形の高さも求まります。その求まった長さを、立面図上で A_2B_2 を中心に回転してやって、平面図から上げてきた線にぶち当たったところで止めてやればOK。あとは適当に基線と平行な線を引くなりなんなりして、仕上げればいいかと。

後半の解説がだれてますがお許してください。

問1の作図復元に手間取って、何回もやりなおしました…。本物では A_1B_1 は手前に見えていたので見えない線はすべて点線にできました。

問題用紙の大きさはB3だったので、もうちょっと楽に作図できたはずです。