

力学 H.20 鈴木 真二

問題 1

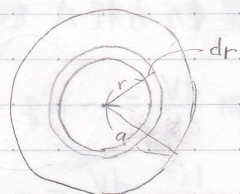
1) 面密度 ρ_1 は $\rho_1 = \frac{m}{\pi a^2}$

慣性モーメントは (質量) \times (長さ)² だから

$$I_1 = \int_0^a r^2 \times 2\pi r dr \times \rho_1$$

$$= \frac{2m}{a^2} \left[\frac{1}{4} r^4 \right]_0^a$$

$$= \frac{1}{2} m a^2$$



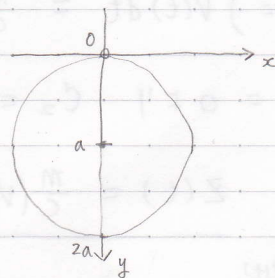
2) 平行軸の定理

（支持点を原点、重心を (X_c, Y_c) 、重心まわりの慣性モーメント I_c とすると、支持点まわりの慣性モーメント I は

$$I = (X_c^2 + Y_c^2) m + I_c^2$$

より：求める慣性モーメント I_2 は

$$I_2 = (0^2 + a^2) m + I_1 = \frac{3}{2} m a^2$$

3) 求める慣性モーメント I_3 は

$$I_3 = I_2 - (\text{穴 } a \text{ 分の慣性モーメント})$$

$$= \frac{3}{2} m a^2 - \left\{ (0^2 + (\frac{a}{2})^2) \frac{m}{4} + \frac{2m}{a^2} \left[\frac{1}{4} r^4 \right]_0^{\frac{a}{2}} \right\}$$

$$= \frac{21}{16} m a^2$$

問題 2

1) 運動方程式を立てると

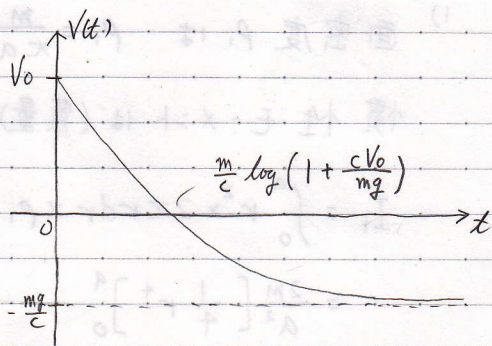
$$m \frac{dV}{dt} = -mg - cV = -c \left(V + \frac{mg}{c} \right)$$

$$\frac{1}{V + \frac{mg}{c}} \frac{dV}{dt} = -\frac{c}{m} \quad \text{ここで両辺 } t \text{ で積分}$$

$$\log \left| V + \frac{mg}{c} \right| = -\frac{c}{m} t$$

$$\text{よって } V = C_1 e^{-\frac{c}{m} t} - \frac{mg}{c}$$

$$V(0) = V_0 \text{ より } C_1 = V_0 + \frac{mg}{c}$$



$$V(t) = \left(V_0 + \frac{mg}{c} \right) e^{-\frac{c}{m} t} - \frac{mg}{c}$$


2) 終端速度 V_t は

$$V_t = \lim_{t \rightarrow \infty} V(t) = -\frac{mg}{c}$$

$$3) \quad Z(t) = \int V(t) dt = -\frac{m}{c} \left(V_0 + \frac{mg}{c} \right) e^{-\frac{c}{m} t} - \frac{mg}{c} t + C_2$$

$$Z(0) = 0 \text{ より } C_2 = \frac{m}{c} \left(V_0 + \frac{mg}{c} \right)$$

$$\text{よって } Z(t) = \frac{m}{c} \left(V_0 + \frac{mg}{c} \right) (1 - e^{-\frac{c}{m} t}) - \frac{mg}{c} t$$



問題 3

+ 時間

1)


2) H19 の 問題 4 と同じ

問題4

1) 力のつりあいの式より

$$m \frac{v^2}{r} = N \sin a$$

$$N \cos a = mg$$

よって質点の速度 $v = \sqrt{gr \tan a}$

2) 図より

$$x(t) = r(t) \cos \theta(t)$$

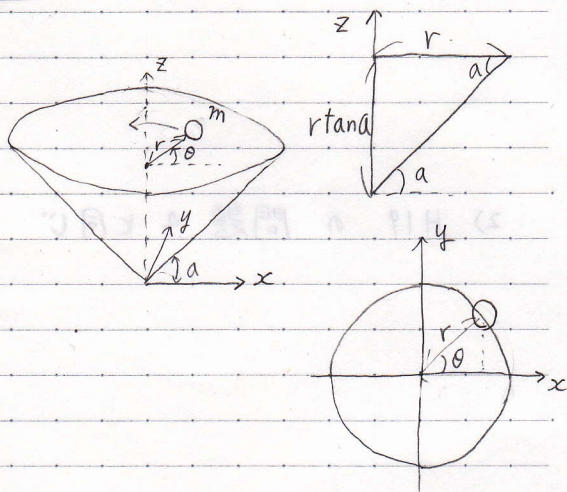
$$y(t) = r(t) \sin \theta(t)$$

$$z(t) = r(t) \tan a$$

$$T = \frac{1}{2} m (\dot{x}(t)^2 + \dot{y}(t)^2 + \dot{z}(t)^2)$$

$$= \frac{1}{2} m \left(\frac{1}{\cos^2 a} \dot{r}(t)^2 + (r(t) \dot{\theta}(t))^2 \right)$$

$$V = mgr(t) \tan a$$



$$\frac{d}{dt} \left(\frac{\partial L}{\partial \dot{r}(t)} \right) - \frac{\partial L}{\partial r(t)} = \frac{m}{\cos^2 a} \ddot{r}(t) - m r(t) \dot{\theta}(t)^2 - mg \tan a = 0 \quad \text{--- ①}$$

$$\frac{d}{dt} \left(\frac{\partial L}{\partial \dot{\theta}(t)} \right) - \frac{\partial L}{\partial \theta(t)} = m r(t)^2 \dot{\theta}(t) = 0 \quad (\text{角運動量保存則})$$

単位質量あたりの角運動量を $h = r(t)^2 \dot{\theta}(t)$ とおき、①式の $\dot{\theta}(t)$ を消去すると、

$$m r''(t) = \frac{m h^2 \cos^2 a}{r(t)^3} + mg \sin a \cos a$$

問題4 つづき

$r(0)=l, r'(0)=v'(0)=0$ から $r(t)=R, r'(t)=v(t)=V$ まで前の式を積分すると、

$$(\text{左辺の積分}) = m \int_l^R \frac{dv}{dt} dr = m \int_0^V \frac{dr}{dt} dv = \frac{1}{2} m V^2$$

$$\begin{aligned} (\text{右辺の積分}) &= \int_l^R \left\{ \frac{m h^2 \cos^2 \alpha}{r^3} + mg \sin \alpha \cos \alpha \right\} dr \\ &= \left[-\frac{m h^2 \cos^2 \alpha}{2 r^2} + mgr \sin \alpha \cos \alpha \right]_l^R \\ &= \frac{m h^2 \cos^2 \alpha}{2} \left(\frac{1}{l^2} - \frac{1}{R^2} \right) + mg(R-l) \sin \alpha \cos \alpha \end{aligned}$$

3) 半径が平衡の状態より小さければ、角運動量保存則より

回転の速度が速くなり、遠心力が大きくなり、斜面上向きの

力を受けて上昇し、 r は大きくなる。半径が大きければ

同様に速度が遅くなり、遠心力が小さくなり、斜面下

向きの力を受けて下降し、 r は小さくなる。これにより、質点

は r_{\min} と r_{\max} の間を変化する。

問題5

フィギュアスケートの選手がスピンをする際、腕を伸ばすと回転が遅くなり、腕を縮めると回転が速くなる。